

# 1

## 世界の姿①

単元別定期  
テスト対策

実施日 月 日

教科書  
p.6 ~ 11

シム

氏名

100

1 次の各問いに答えなさい。

各5点×20

□(1) 地表の約7割が( ① ), 約3割が( ② )である。( ① ), ( ② )にあてはまる語句をそれぞれ答えなさい。

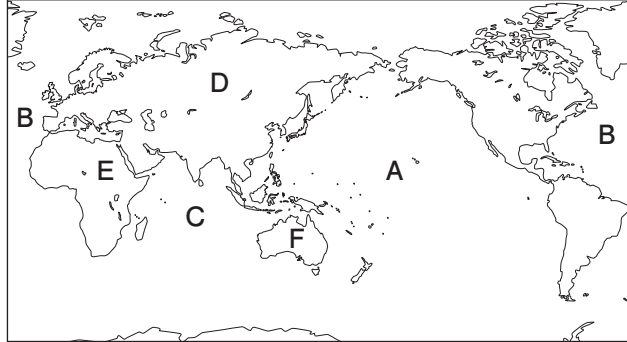
(1)① \_\_\_\_\_

② \_\_\_\_\_

□(2) 地図I中に

地図I

Aで示した海洋を何というか。



(2) \_\_\_\_\_

□(3) 地図I中に

Bで示した海洋を何というか。

(3) \_\_\_\_\_

(4) \_\_\_\_\_

□(4) 地図I中にCで示した海洋を何というか。

(5) \_\_\_\_\_

□(5) (2)~(4)の海洋をまとめて何というか。

(6) \_\_\_\_\_

□(6) 六大陸のうち, 地図中にDで示した, 面積が最も広い大陸を何というか。

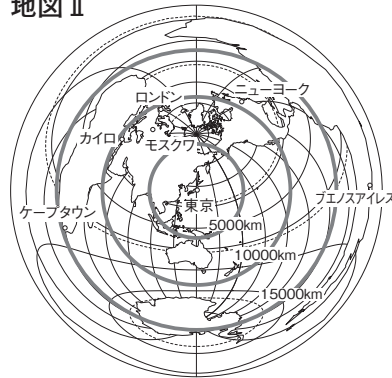
(7) \_\_\_\_\_

□(7) 地図I中にEで示した大陸を何というか。

(8) \_\_\_\_\_

□(8) 地図I中にFで示した大陸を何というか。

地図II



(9) \_\_\_\_\_

□(9) 地図I中にGで示した大陸を何というか。

(10) \_\_\_\_\_

□(10) 地球を縮めた模型を何というか。

(11)① \_\_\_\_\_

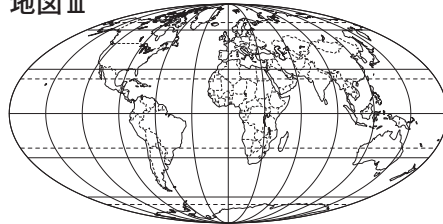
□(11) 地図IIは, 中心からの( ① )と( ② )が正しい地図である。( ① ), ( ② )にあてはまる語句をそれぞれ答えなさい。

② \_\_\_\_\_

①②順不同

□(12) 地図IIIは, 何が正しく表された地図か。

地図III



(12) \_\_\_\_\_

□(13) 0度の緯線を何というか。

(13) \_\_\_\_\_

□(14) 0度の経線を何というか。

(14) \_\_\_\_\_

□(15) (13)の緯線より南側の緯度を何というか。

(15) \_\_\_\_\_

□(16) (14)の経線より西側の経度を何というか。

(16) \_\_\_\_\_

□(17) 緯度によって気温が異なるのは, 緯度によってその地点に届く太陽の( )が異なるためである。( )にあてはまる語句を答えなさい。

(17) \_\_\_\_\_

□(18) 高緯度地域で夏に見られる, 太陽がしずまずにうす明るい状態を何というか。

(18) \_\_\_\_\_